

# Je fais le point

Nom  Prénom  Date

<http://laclasselleve.fr/>

# Les nombres décimaux

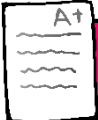
## Comparer, ranger et encadrer



### Exercice n° 1

Ecris les nombres décimaux qui te sont dictés.

<u>  A  </u>	<u>  B  </u>	<u>  C  </u>	<u>  D  </u>	<u>  E  </u>
<u>  F  </u>	<u>  G  </u>	<u>  H  </u>	<u>  I  </u>	<u>  J  </u>



Ecrire des nombres décimaux sous la dictée.

/ 10

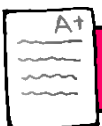


### Exercice n° 2

Compare ces nombres décimaux.

Évaluation

- a) 6,7 \_\_\_\_ 6,9
- e) 82,2 \_\_\_\_ 82
- i) 7 \_\_\_\_ 7,000
- b) 35,3 \_\_\_\_ 14,24
- f) 56,07 \_\_\_\_ 5,607
- j) 0,5 \_\_\_\_ 0,244
- c) 2,6 \_\_\_\_ 2,600
- g) 3,135 \_\_\_\_ 3,4
- k) 21,7 \_\_\_\_ 67,95
- d) 4,21 \_\_\_\_ 4,6
- h) 60,01 \_\_\_\_ 60,1
- l) 8,610 \_\_\_\_ 8,9



**Comparer des nombres décimaux.**



/ 12

Évaluation



Exercice n° 3

Range ces nombres dans l'ordre demandé.

**ORDRE CROISSANT**

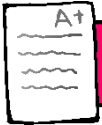
	2,7		7		4,27		2,4		4,027		74,2		72,4		2,47
--	-----	--	---	--	------	--	-----	--	-------	--	------	--	------	--	------

--	--	--	--	--	--	--	--	--	--	--	--	--	--	--	--

**ORDRE DÉCROISSANT**

	3,58		5,3		503,8		8,53		3,8		8,3		38,5		3,508
--	------	--	-----	--	-------	--	------	--	-----	--	-----	--	------	--	-------

--	--	--	--	--	--	--	--	--	--	--	--	--	--	--	--



**Ranger des nombres décimaux.**



/ 16

Évaluation



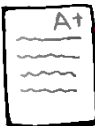
Exercice n° 4

Encadre ces nombres entre deux entiers qui se suivent.

____ < 7,4 < ____	____ < 0,5 < ____	____ < 6,78 < ____
____ < 35,9 < ____	____ < 8,63 < ____	____ < 150,1 < ____
____ < 1,267 < ____	____ < 399,5 < ____	____ < 94,96 < ____

___ < 28,35 < ___	___ < 4,038 < ___	___ < 207,2 < ___
-------------------	-------------------	-------------------

### Évaluation



**Encadrer des nombres décimaux entre deux entiers.**



/12

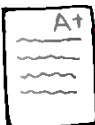


Exercice n° 5

Encadre ces nombres au dixième près.

___ < 2,63 < ___	___ < 1,15 < ___	___ < 4,02 < ___
___ < 8,452 < ___	___ < 34,98 < ___	___ < 53,77 < ___

### Évaluation



**Encadrer des nombres décimaux au dixième près.**



/12

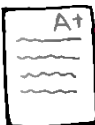


Exercice n° 6

Complète avec un nombre décimal qui convient.

3,5 < ___ < 3,7	1,1 < ___ < 1,12	21,3 < ___ < 25
8,2 < ___ < 8,6	7 < ___ < 7,45	5,24 < ___ < 5,8
50,1 < ___ < 50,9	9,31 < ___ < 9,9	4,651 < ___ < 4,67

### Évaluation



**Intercaler un nombre décimal entre deux autres décimaux.**



/9



Exercice n° 7

Arrondis au nombre entier le plus proche.

8,3	⇒	___		23,1	⇒	___		0,51	⇒	___
-----	---	-----	--	------	---	-----	--	------	---	-----

5,698



\_\_\_\_\_

754,9



\_\_\_\_\_

104,479



\_\_\_\_\_

39,07



\_\_\_\_\_

1 462,8



\_\_\_\_\_

Évaluation

A+

Arrondir un nombre décimal à l'entier le plus proche.



/8



Exercice n° 8

Arrondis au dixième le plus proche.

1,32



\_\_\_\_\_

77,11



\_\_\_\_\_

24,194



\_\_\_\_\_

420,57



\_\_\_\_\_

61,973



\_\_\_\_\_

Évaluation

A+

Arrondir un nombre décimal au dixième le plus proche.



/5

