

Document 1

1. Entoure le paysage de ville.

2. Sur le dessin de la ville, colorie les commerces en bleu, les divertissements en vert, les bâtiments publics en jaune, les monuments historiques en violet, les lieux d'habitation en rouge et les moyens et voies de communication en gris.

3. Réponds à la question.



Quelles sont les différences entre la ville et la campagne?

Document 2

Complète le tableau des aménagements de l'homme en ville.

Transport	
Administration et santé	
Sport, culture et loisir	
Enfance et enseignement	
Commerce et divers	



Document 1

Compare ces deux photographies.
Quelles sont les différences et les points communs ?



La Grand Place de Lille (Nord) en

La Grand Place de Lille (Nord)

Document 2

Combien de familles peuvent vivre dans ces bâtiments ? 1, 20 ou 100 ?
Quels sont les avantages et les inconvénients des immeubles collectifs ?

Au XIX^e siècle, on a construit de beaux immeubles en pierre, avec des façades souvent décorées et des balcons en fer forgé.


Au XX^e siècle, on a construit des bâtiments en briques rouges

Les immeubles les plus récents ont un toit en terrasse, une façade en béton et sont parfois très hauts.



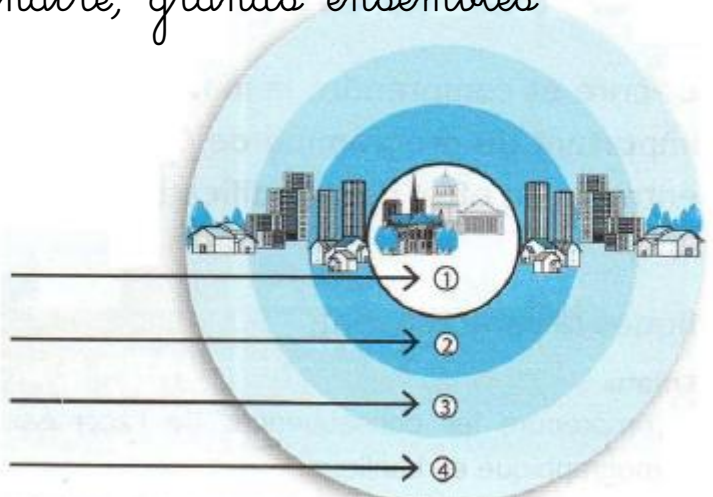
1. Ecris la légende sous chaque dessin :

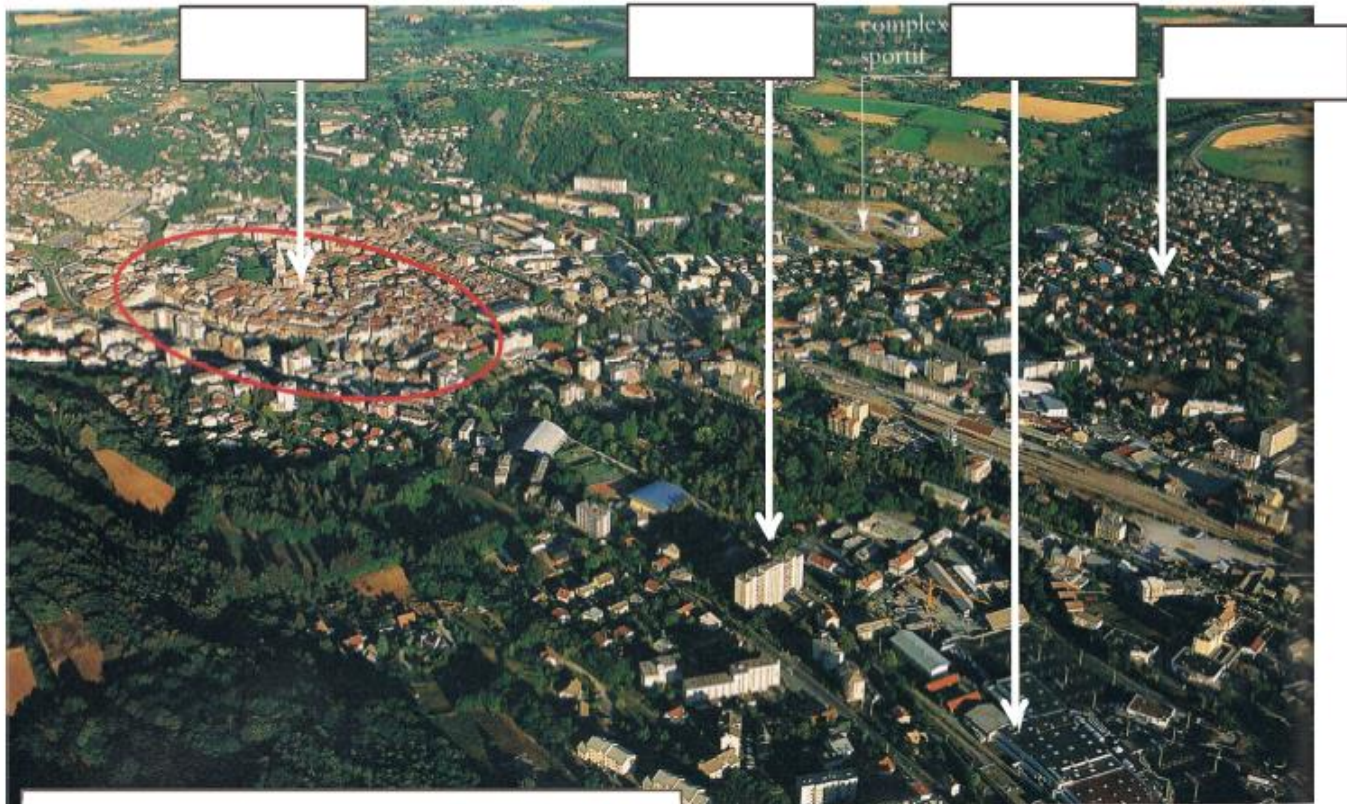
parillon, immeuble ancien, lotissement, tour d'immeubles



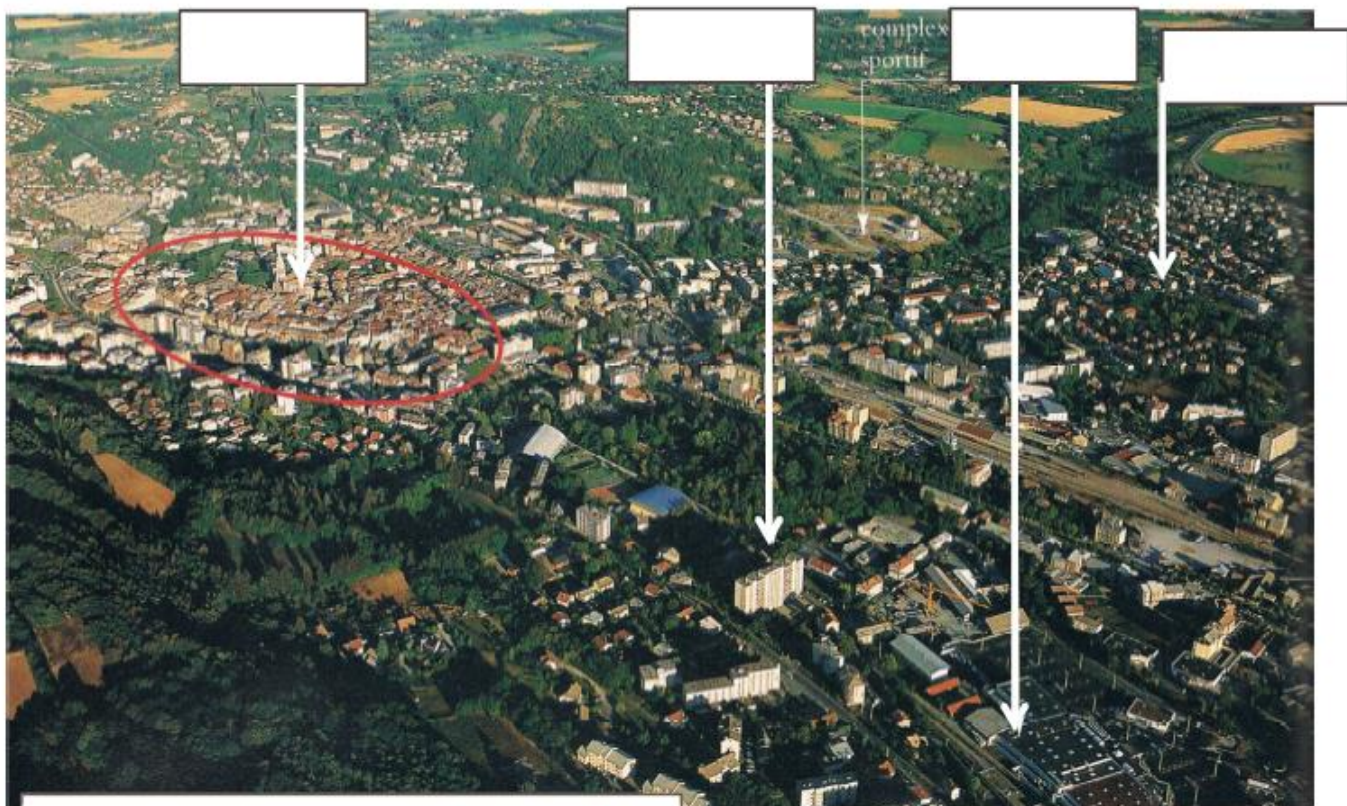
2. Place les différentes zones au bon endroit sur ce schéma de la ville et de sa banlieue :

bureaux et banlieue résidentielle, centre historique, banlieue pavillonnaire, grands ensembles



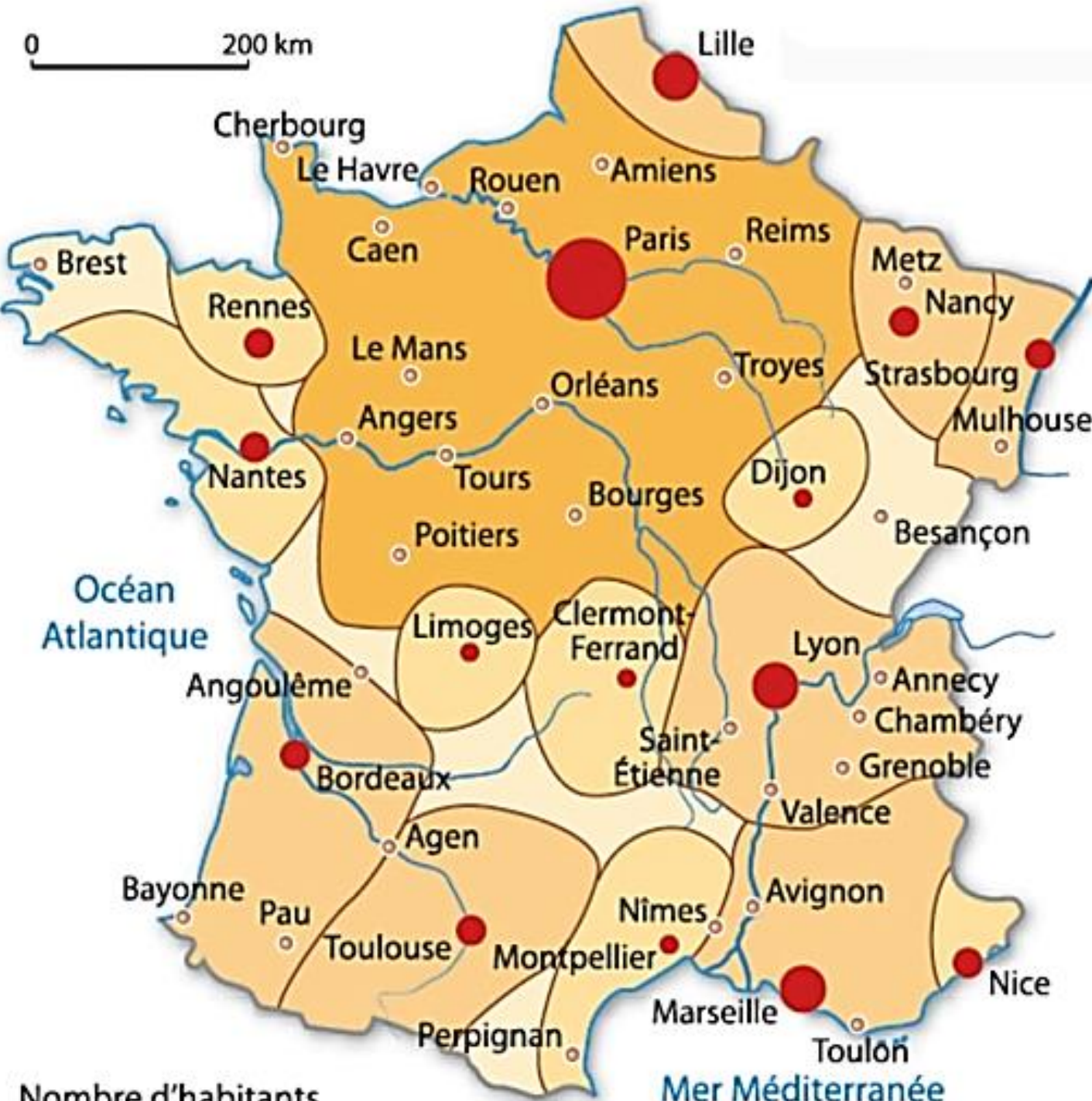


La ville de Gap et sa périphérie



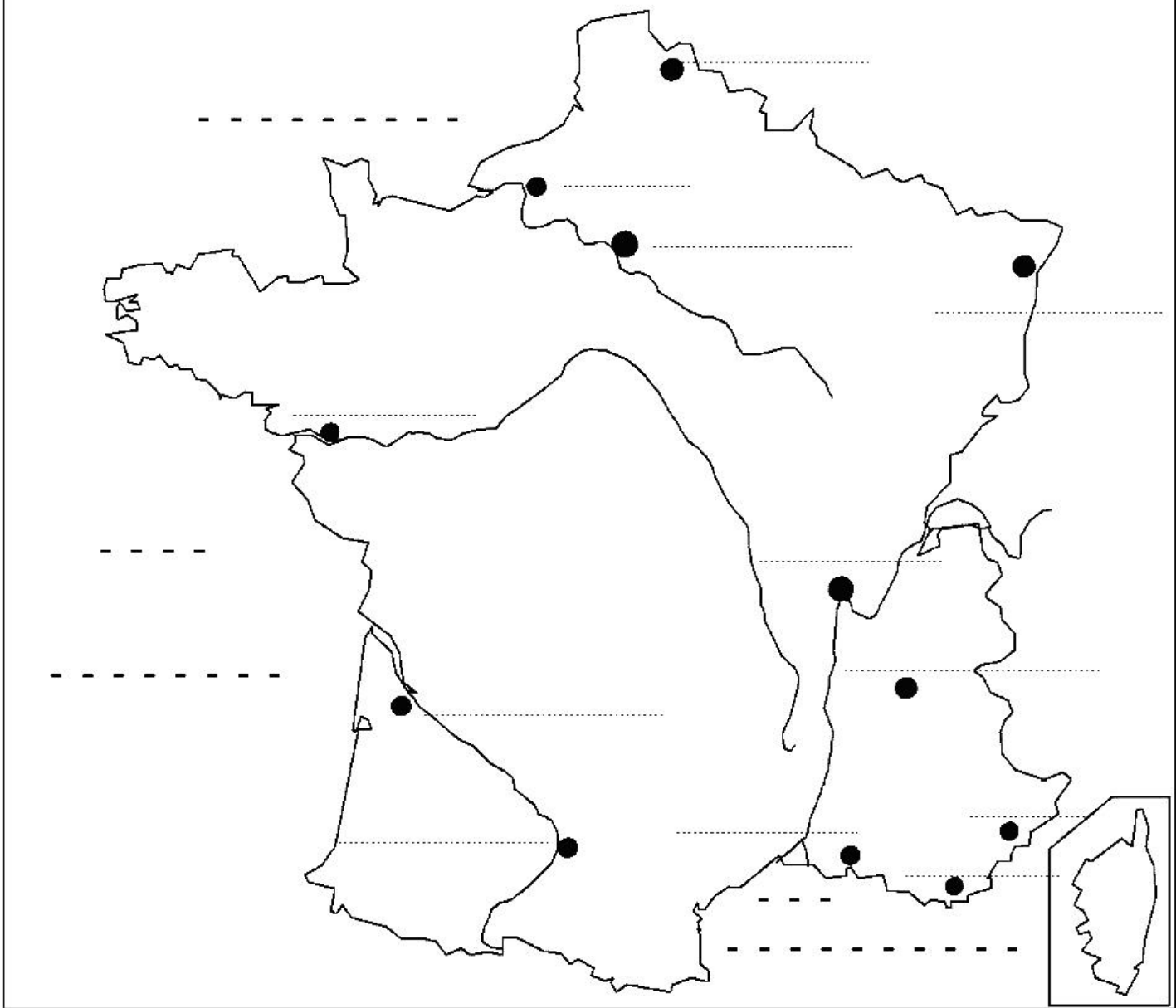
La ville de Gap et sa périphérie

0 200 km



Nombre d'habitants

- Plus de 10 millions
- Plus d'un million
- Plus de 500 000
- Plus de 200 000



Je retiens:

- Les grandes agglomérations comptent plus de 200 000 habitants et leur zone d'influence est très étendue. En effet, des gens viennent de très loin pour trouver des services qu'ils n'ont pas près de chez eux (aéroports, grands hôpitaux, universités...).
- Paris est la capitale de la France. C'est là que se trouvent le gouvernement et la plupart des grandes entreprises. Près d'1 Français sur 5 habite dans l'agglomération parisienne, soit environ 12 millions d'habitants.
- Pour se loger, un nombre croissant d'habitants des villes s'installe en banlieue car il y plus d'espace et l'habitat est moins cher et très varié : grands immeubles (habitat collectif), maisons individuelles dans des lotissements ou villas.
- On a même construit des villes nouvelles près des grandes villes pour faire face au manque de logements. A force de s'agrandir, la banlieue se rapproche peu à peu de la campagne : on parle de zone péri-urbaine.
- Souvent, les gens qui habitent en banlieue continuent à travailler dans le centre-ville : les déplacements de la banlieue au centre (mouvements pendulaires) créent des embouteillages et de la pollution. Grâce à l'espace disponible en banlieue, on y trouve divers aménagements : immenses centres commerciaux, parcs et espaces verts, autoroutes ...

Des mots pour comprendre:

agglomération: zone urbaine continue autour d'une ville principale.

Zone périurbaine: zone qui se situe autour de la ville et de sa banlieue, se rapprochant peu à peu de la campagne.

Mouvements pendulaires: déplacements de la banlieue vers le centre-ville et inversement à horaires réguliers (matin et soir)