

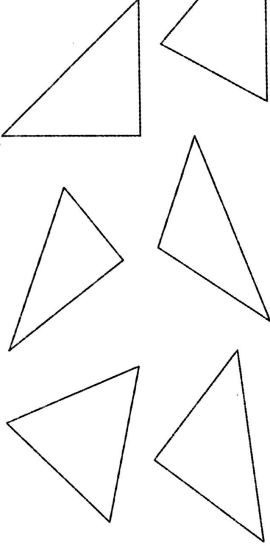

Identifier un triangle rectangle

Découvrons ensemble

Utilise le gabarit d'angle droit de la page matériel pour trouver les triangles rectangles.
Dessine un point bleu au sommet de leur angle droit.



Moi, j'ai trouvé 3 triangles rectangles.

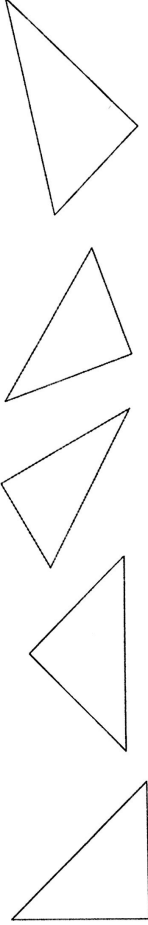


Un triangle rectangle possède un angle droit.

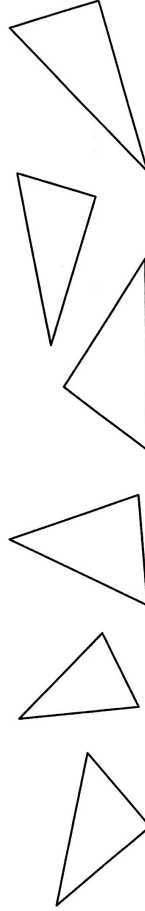


Je m'entraîne

1 Utilise ton gabarit d'angle droit pour trouver l'angle droit de chacun de ces triangles rectangles. Dessine un point bleu au sommet de leur angle droit.

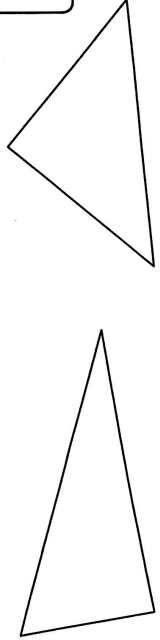


2 Utilise ton gabarit d'angle droit pour trouver les triangles rectangles. Entoure-les.



3 Problème : Dessine un point bleu au sommet de l'angle droit des triangles rectangles. Utilise une bande de papier pour trouver le plus long des trois côtés de chaque triangle. Repasse-le en rouge.

Où se trouve le côté rouge par rapport à l'angle droit ?



Compétences : Identifier un triangle rectangle en utilisant un gabarit d'angle droit. Identifier le sommet de son angle droit. Calcul mental : Complément à la centaine. L'enseignant écrit $96 + \dots = 100$; l'élève écrit 4.



Reproduire un triangle rectangle

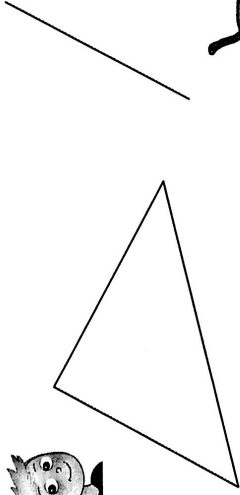
69

Découvrons ensemble

Aide Léa à reproduire le triangle rectangle de Théo. Utilise le gabarit de la page matériel pour trouver l'angle droit. Dessine un point bleu au sommet de l'angle droit.



J'ai déjà tracé un côté de l'angle droit.

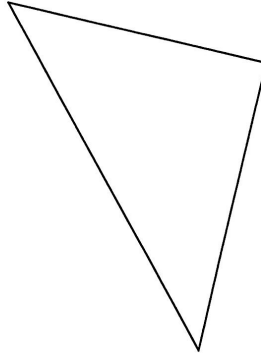


Utilise ton gabarit pour tracer l'angle droit, puis une bande de papier pour reporter les longueurs.

Je m'entraîne

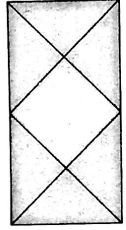


1 Reproduis le triangle rectangle. Le côté bleu est tracé.



Le coin du chercheur

Combien de triangles comptes-tu ?




2 Calcule.

1	5	6
+	2	5

2	9	4
+	1	4

Compétence : Tracer un triangle rectangle sur papier uni, un sommet et un côté étant déjà tracés.
Calcul mental : Ecrire le suivant. L'enseignant dit : « 279 » ; l'élève écrit 280.

1 Marque les angles droits lorsqu'il y en a.



2 Complète cette phrase :

Certains triangles sont particuliers parce qu'ils ont
une
ou les angles les

3 Complète ces triangles rectangles.

