

CALCUL MENTAL


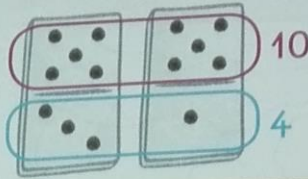

Problème : faire compléter à 10.
« Lou veut planter 10 rosiers ; elle en a planté 8.
Combien de rosiers doit-elle encore planter ? »

□ □ □ □ □ □ □ □

1 Calcule.

MATÉRIEL
CARTONNÉ

Utilise
les dominos.



$8 + 6 = \dots$

$9 + 5 = \dots$

$6 + 5 = \dots$

$7 + 6 = \dots$

$9 + 7 = \dots$

$7 + 5 = \dots$

$7 + 8 = \dots$

$8 + 9 = \dots$

$8 + 5 = \dots$

$7 + 9 = \dots$

$9 + 6 = \dots$

2 Observe l'exemple et continue.

* $5 + 9 = 9 + 5 = 14$

$7 + 9 = 9 + 7 = \dots$

$6 + 9 = \dots + \dots = \dots$

$4 + 8 = 8 + 4 = \dots$

$5 + 8 = \dots + \dots = \dots$

$6 + 8 = \dots + \dots = \dots$

5 + 9
c'est pareil
que 9 + 5



3 Complète.

* *

13

9 +

8 +

14

9 +

8 +

15

9 +

8 +

16

9 +

8 +

4 **PROBLÈME** Dans une salle, il y a 9 chaises. 14 enfants veulent s'asseoir.
Combien de chaises manque-t-il ?



.....

Il manque chaises.