

110 Les désignations d'un même nombre


Objectif : exprimer un nombre selon différentes désignations (nom du nombre, écriture usuelle en chiffres, somme de..., double de...)


CALCUL MENTAL


Dire une somme du répertoire additif > 10.
Écrire la somme. (Travail par deux.)

--	--	--	--	--	--

1 Le jeu des 3 erreurs.
Trois de ces écritures ne désignent pas le nombre 14. Barre-les.









15 - 1	1 dizaine et 4 unités	double de 7
20 - 6		10 + 4
moitié de 28	4 + 10	7 + 7
4 d + 1 u		1 + 4
		20 - 4

2 Complète les écritures de 26.



10 + 10 +	
vingt-	double de
6 u +	2 d +
10 + 3 + 10 +	6 +

3 Complète les écritures de 50.



3 d + d	d
60 -	40 +
+ 20	30 +
10 + 10 + 10 + 10 +	

4 PROBLEME Trouve différentes façons de faire la somme de 35 € avec ces billets et ces pièces.











35 € = _____

35 € = _____