

## Reconnaitre une situation de proportionnalité

Colorie les tableaux qui relèvent d'une situation de proportionnalité puis indique quel est son coefficient. N'oublie pas d'indiquer le sens de la flèche.


	1	2	3	5	10	14
	5	10	15	25	50	70

	5	8	9	11	12	50
	10	16	18	22	24	100


	3	6	8	10	13	15
	6	6	12	50	55	60


	4	8	12	15	20	50
	8	16	24	30	40	100


	3	6	7	11	15	20
	12	24	28	44	60	80

	5	10	15	25	60	80
	50	100	150	250	600	800


	6	8	10	12	5	3
	30	40	50	60	25	15

	12	15	23	54	82	91
	36	45	69	162	246	273


	1	2	3	4	5	6
	3	6	9	12	15	18

	4	8	12	15	20	50
	9	16	28	33	41	100

	3	4	5	6	9	10
	18	24	30	36	54	60

	14	9	11	45	32	80
	154	99	121	495	352	880

	1	4	8	6	9	11
	6	24	48	36	54	66

	25	50	125	45	35	80
	125	250	625	225	175	400