





**CALCUL MENTAL**

Problème : retrouver la transformation dans une situation soustractive (nombres  $\leq 20$ ).  
« Théo avait 16 €. Il lui reste 2 €. Combien a-t-il dépensé ? »

..... €	..... €	..... €	..... €	..... €
---------	---------	---------	---------	---------

### 1 Réponds aux questions.

	1	2	3	4	5	6	7	8	9
10	11	12	13			16			
20	21								29
30	31	32	33	34					
40			43		45				
50		52					57	58	59
60								68	
70									
80	81	82							89
90	91	92	93						

• Quels nombres se trouvent dans les cases en couleur ?

	.....		.....
	.....		.....

- Écris la lettre :  
**A** dans la case 63  
**B** dans la case 18  
**C** dans la case 74  
**D** dans la case 39

### 2 Pour chaque enfant, continue la suite en respectant la règle.



Marie avance de 2 en 2.

63	65	.....	.....	.....	.....	.....	.....
----	----	-------	-------	-------	-------	-------	-------



Tom avance de 5 en 5.

40	.....	50	.....	.....	.....	.....	.....
----	-------	----	-------	-------	-------	-------	-------



Fatou recule de 10 en 10.

79	69	.....	.....	.....	.....	.....	.....
----	----	-------	-------	-------	-------	-------	-------



Mbedhi recule de 2 en 2.

24	.....	.....	18	.....	.....	.....	.....
----	-------	-------	----	-------	-------	-------	-------

### 3 Complète avec le nombre qui précède et le nombre qui suit.

