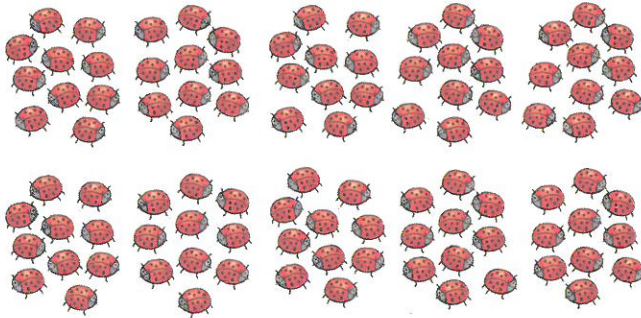


**CALCUL MENTAL**

Faire soustraire un nombre à un chiffre d'une dizaine entière. Ex :  $30 - 4$   
Écrire la différence.

--	--	--	--	--	--

**1** Il y a **100** coccinelles. Entoure les groupes de 10. Complète.



100 c'est  
10 dizaines !

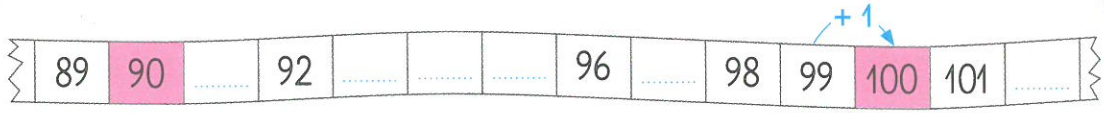
100 cent



Il y a ..... groupes de 10.

$10 + 10 + 10 + \dots + \dots + \dots + \dots + \dots + \dots + \dots = 100$


**2** Complète la bande numérique.



100 c'est  
 $99 + 1$



**3** Complète pour faire 100.



$90 + \dots$	$70 + \dots$	$40 + \dots$
$80 + \dots$	$10 + \dots$	$20 + \dots$
$60 + \dots$	$50 + \dots$	



Écris le nombre **100** en chiffres et en lettres.

100 cent