

# Je fais le point (5)

**1** Colorie de la même couleur les écritures du même nombre.

quatre-vingt-douze

82      92

quatre-vingt-deux

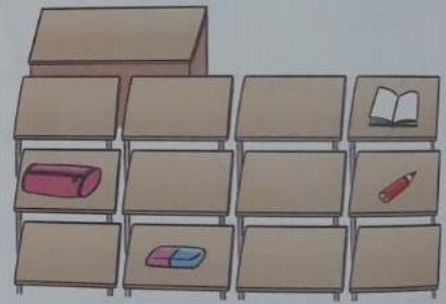
**2** Complète le répertoire additif.

11	9 +	8 +
12	9 +	8 +
13	9 +	8 +
14	9 +	8 +

**3** Effectue ces additions. Barre le résultat en trop.

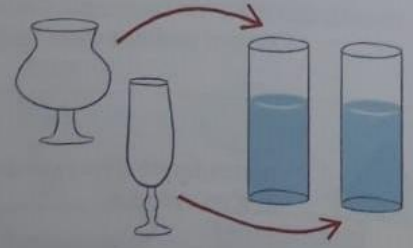
5 4	6 1	79
+ 2 3	+ 1 5	
+ 1 0	+ 3	
. .	. .	
. .	. .	
2 3	4 5	98
+ 2 0	+ 1 2	72
+ 3 4	+ 4 1	77
. .	. .	87

**4** Que vois-tu sur la table de droite de la 2<sup>e</sup> rangée ?



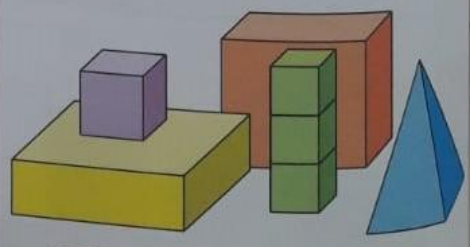
- Coche.
- la trousse       la gomme
- le cahier       le crayon

**5** Ces deux verres ont-ils la même contenance ?



Coche.  oui       non

**6** Écris le nombre de cubes et le nombre de pavés.



cubes       pavés droits