

Prénom : _____

Date: _____

Nombres et quantités : de 0 à 999



1 Complète le tableau:

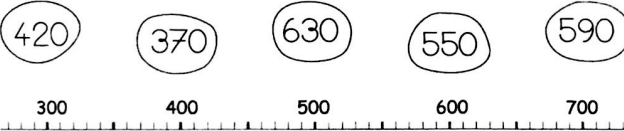
nombre avant	nombre	nombre après
	445	
608		
		261
854		

2 Complète avec <, > ou =:

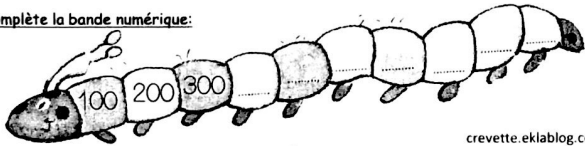
3 15

- 265 625 100 200
- 109 901 350 410 600 612
- 918 185 49 412 180 818

3 Relie les nombres à leur place sur la droite graduée



4 Complète la bande numérique:



crevette eklablog.com

Prénom : _____

Date: _____

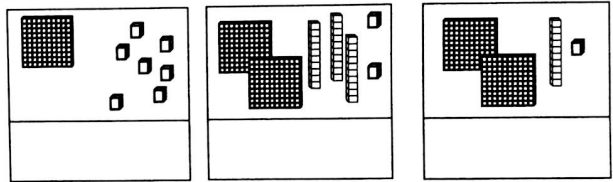
Nombres et quantités : de 0 à 999

3 15

1 Complète avec <, > ou =:

- 202 $100 + 20$ 467 $400 + 70$
- 338 $300 + 80 + 8$ 630 $600 + 30$
- 256 $300 + 60 + 5$ 375 $100 + 100 + 100$


2 Compte et complète:



3 Ecris les nombres du plus grand au plus petit:

- 655 - 816 - 565 - 154 - 96 - 810 - 500
-

4 Complète:



crevette eklablog.com