

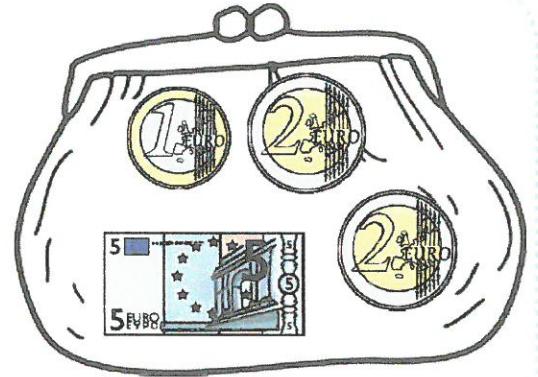
Problèmes

Pour chacun de ces problèmes : Ecris un calcul et une phrase réponse dans les cadres. Tu peux faire un schéma sur ton cahier de brouillon.

1 Lola a ces pièces et billets dans son porte-monnaie.

Combien a-t-elle d'argent ?

Peut-elle acheter un jeu à 6 Euros ?




Combien va-t-il lui rester ?

2 Ahmed a ces pièces et billets dans sa tirelire.

Combien a-t-il d'argent ?

Il donne tout l'argent qu'il a pour acheter un CD à 16 Euros ? Combien va-t-on lui rendre ?



3 Lisa achète cette poupée. Elle donne un billet de 20€ et un billet de 50€. Combien va-t-on lui rendre ?




Poupée de chiffon
23 cm
61 Euros

Pour chacun de ces problèmes : Ecris un calcul et une phrase réponse dans les cadres. Tu peux faire un schéma sur ton cahier de brouillon.

1

Lola a 26€ dans son porte-monnaie. Dessine les pièces et billets qu'il peut contenir.

Elle achète un puzzle à 20€. Combien lui reste-t-il ?




2

Lila veut acheter une poupée à 25€. Elle donne 30€ à la vendeuse. Combien lui rend-on ?




3

Lilian achète 3 rouleaux de réglisse, 2 nounours et 4 frites. Combien paye-t-il ?



Enfin, Anaïs et Martin décident d'inviter plusieurs amis. Ils retournent faire les courses. Voici le ticket de caisse :



EUROMAG de Nancy

20-11-2010

Jus d'orange x2 _____

Jus d'ananas x1 _____

Cookies x4 _____

Gâteau au chocolat x2 _____

Sucettes x5 _____

Total _____

Complète le ticket de caisse et indique combien ils vont payer en tout.

Recherches et calculs :

Phrase réponse



Voici les billets qu'Anaïs a donné pour payer le goûter : **Combien** la caissière lui a-t-elle rendu? **Dessine** les pièces et/ou les billets qu'elle a pu lui rendre.

Calcul


Dessin

Phrase réponse

Problèmes

Pour chacun de ces problèmes : Ecris un calcul et une phrase réponse dans les cadres. Tu peux faire un schéma sur ton cahier de brouillon.


Anaïs et Martin sortent de l'Euromag où ils ont fait quelques achats pour le goûter d'anniversaire de leur petite soeur. **Combien** ont-ils payé ?




Calcul

Phrase réponse

Entoure les porte-monnaie qui contiennent la somme exacte du prix du goûter.



Voici le billet qu'Anaïs a donné pour payer le goûter :  **Combien** la caissière lui a-t-elle rendu?

Calcul

Phrase réponse

Dessin

Dessine les pièces et/ou les billets qu'elle a pu lui rendre.