

Date : _____

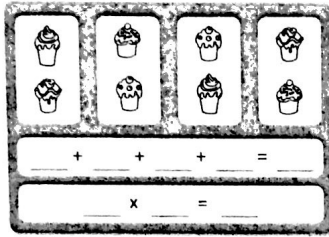
1 Combien y a-t-il de gâteaux ?

Exemple - Il y a 3 boîtes de 4 gâteaux.



$$4 + 4 + 4 = 12$$


$$3 \times 4 = 12$$



2 Combien y a-t-il de voitures ?

$$_ + _ + _ + _ = _$$

$$_ \times _ = _$$




3 Combien y a-t-il de voitures ?



$$_ + _ + _ = _$$

$$_ \times _ = _$$

4 Dessine le nombre de paquets de billes correspondant à l'opération.



$$2 + 2 + 2 = _$$

$$_ \times _ = _$$

Date : _____

1 Combien y a-t-il de gâteaux sur les étagères ?




$$_ + _ + _ = _$$

$$_ \times _ = _$$

2 Combien y a-t-il de ballons ?

$$_ = _$$

$$_ \times _ = _$$



3 Combien y a-t-il de bonshommes découpés ?

$$_ = _$$

$$_ \times _ = _$$

